

5° B
CURSO 2010-11
Religión

Misión: Descubrir a Jesús



ÍNDICE

EXPLICACIÓN DEL TRABAJO	2
RUBÉN T. y ALEJANDRO R.	4
NEREA y MARINA	10
RAÚL R. y RAÚL S.	14
Asma y Aurora.....	22
EDURNE y PAULA	26
ADRIÁN y JORGE.....	33
ALBERTO y ALEJANDRO	38
BLANCA y ÁNGEL.....	41
IFI y SUSANA	46
GONZALO Y CARLOS	49
ALEJANDRO VALVERDE y GABRIEL	52
RUBÉN y DANI.....	64



EXPLICACIÓN DEL TRABAJO

Misión: Descubrir a Jesús

El personaje: Jesús

Hola amigos. ¡Bienvenidos! Os invitamos a disfrutar una nueva aventura en cada trimestre de este curso. Para comenzar vamos a trabajar sobre el personaje, sobre Jesús. En las cuatro primeras unidades vais a trabajar diferentes cualidades que os acercarán un poco más al verdadero rostro de Jesús. Atentos a cada una de ellas, son pistas muy importantes para conocer de verdad quién es.

Trabajando en esta webquest conseguiréis repasar los contenidos de cada unidad y comprenderlos mejor. Utilizaréis nuevos métodos para aprender y descubrir cosas por vosotros mismos. Os proponemos un trabajo de investigación para que podáis divertirnos a la vez que aprendéis a trabajar de una manera diferente.

Pincha este enlace

http://www.sehacesaber.org/profesores/pagina?codigo=webquest_5_trimestre1_presentacion

1.- Investiga

Te proponemos hacer algunas investigaciones acerca de la figura de Jesús. Te ayudarán a comprender mejor los contenidos y a obtener buenos resultados en el test de autoevaluación.

En cada fase encontrarás la tarea a realizar y también te ofrecemos algunos sitios y documentos donde acudir para obtener ayuda. Más adelante encontrarás el repaso de la unidad que también puede ayudarte.

No te olvides de descargar el cuaderno del investigador para ir recogiendo todos tus descubrimientos. Al final del trimestre puede ser un buen trabajo de investigación que presentar a tu profesor. Está en pdf para imprimirlo y hacerlo a mano o bien en word para completarlo directamente con el ordenador.

Descárgate el cuaderno del investigador del 1er. trimestre ([en formato pdf](#)) ([en formato word](#))

Fase 1: El país donde vivió Jesús	Busca y bájate un mapa de Palestina en tiempos de Jesús sobre el que realizar las tareas siguientes. RECURSO 1
	Localiza en el mapa los siguientes accidentes geográficos: Mar Muerto, río Jordán y lago de Galilea. RECURSO 1
	Busca otras maneras de llamar al lago de Galilea y averigua sus características. RECURSO 2
	Sitúa en el mapa tres poblaciones importantes en la vida de Jesús. RECURSO 1
Recursos	1. http://www.geocities.com/leo600603/pagina/mapas/geobiblica.html 2. http://es.wikipedia.org/wiki/Palestina_en_tiempos_de_Jes%C3%BA

Fase 2: Nacimiento de Jesús	Señala en el mapa de la fase 1 la ruta que tuvieron que hacer José y María desde Nazaret a Belén.
	¿Sabes por qué celebramos la Navidad el 25 de diciembre? Investígalo. RECURSO 3
	Mira el siguiente vídeo de la canción Más Allá que Gloria Estefan cantó en el Vaticano ante Juan Pablo II. Escribe en el cuaderno las frases que más te gusten acerca del sentido de la Navidad. RECURSO 2
	Visita el enlace del Museo Thyssen y elige una pintura que te guste acerca del nacimiento de Jesús o del Niño Jesús. Pégala en tu cuaderno, copia los datos más importantes y explica por qué la has elegido. RECURSO 4
Recursos	2. http://www.youtube.com/watch?v=Ep3Reqa2T5o 3. http://cpalfind.educa.aragon.es/navidad/historia.htm 4. http://www.museothyssen.org/thyssen/coleccion/recorridos1.html

Fase 3: Jesús y el templo	Busca y bájate un mapa de la ciudad de Jerusalén en tiempos de Jesús. Sitúa en el mapa el Templo de Jerusalén. RECURSO 1
	Busca también una ilustración del Templo en tiempos de Jesús. Investiga el nombre y el uso de cada una de las partes del templo. RECURSO 2
	Busca una fotografía actual del lugar donde se encontraba el templo y pégala en tu cuaderno. RECURSO 2
	Señala en el mapa de Palestina de la fase 1 la ruta de vuelta de Jerusalén a Nazaret.
	Más adelante, cuando Jesús era mayor expulsó a los mercaderes del templo. Busca en el evangelio Mc 11, 15-18 léelo y descubre por qué querían matar a Jesús. RECURSO 3
Recursos	1. http://www.geocities.com/leo600603/pagina/mapas/geobiblica.html 2. http://www.upcomillas.es/personal/jmmoreno/cursos/Esseer/Jerusalen/Jerusalen.htm#TEMPLO 3. http://www.pastoralsj.org/biblia/

Test y repaso

http://www.sehacesaber.org/profesores/pagina?codigo=webquest_5_trimestre1_repaso

RUBÉN T. y ALEJANDRO R.

¿Sabes por qué celebramos: la Navidad el 25 de diciembre?

La **Navidad** ([latín](#): *nativitas*, «nacimiento»)² es una de las fiestas más importantes del [Cristianismo](#) –junto con la [Pascua](#) y [Pentecostés](#)–, que celebra el nacimiento de [Jesucristo](#) en [Belén](#). Esta fiesta se celebra el [25 de diciembre](#) por la [Iglesia Católica](#), la [Iglesia Anglicana](#), algunas otras [Iglesias protestantes](#) y la [Iglesia Ortodoxa Rumana](#); y el [7 de enero](#) en otras [Iglesias Ortodoxas](#), ya que no aceptaron la reforma hecha al [calendario juliano](#), para pasar a nuestro calendario actual, llamado [gregoriano](#), del nombre de su reformador, el Sumo Pontífice [Gregorio XIII](#).

Los angloparlantes utilizan el término *Christmas*, cuyo significado es ‘misa (*mass*) de Cristo’. En algunas lenguas germánicas, como el [alemán](#), la fiesta se denomina *Weihnachten*, que significa ‘noche de bendición’. Las fiestas de la Navidad se proponen, como su nombre indica, celebrar la *natividad* (es decir, el *nacimiento*) de [Jesús de Nazaret](#).

Aunque para algunos historiadores la celebración de la Navidad histórica debería situarse en primavera (entre abril y mayo), y para otros, siguiendo el relato de [Lucas 2:8](#), que indica que la noche del nacimiento de Jesús, los pastores cuidaban los rebaños al aire libre y que el cielo estaba lleno de estrellas, es poco probable que este acontecimiento hubiera ocurrido en el invierno (hemisferio norte). La Iglesia cristiana mantiene el 25 de diciembre como fecha convencional, puesto que en la primavera u otoño la Iglesia celebra la [Pascua](#).





¿Cómo se llama de otra manera el mar de galilea?

El Mar de -.Galilea, también llamado Mar o Lago de Tiberíades y Lago de Genesaret



. Escribe en el cuaderno las frases que más te gusten acerca del sentido de la Navidad

los regalos , estar con la familia , las fiestas de noche buena y noche vieja y el nacimiento de Jesús

Cristo abrazando la cruz es un tema que El Greco extrajo de la Pasión de Cristo y con el que elaboró una imagen aislada que, por el número de pinturas autógrafas que se conocen, versiones y copias, tuvo una buena acogida entre su clientela. El Greco, que, como reconoce Wethey, transformó un asunto narrativo en otro devoto, nos ofrece en estos óleos un pasaje del sacrificio de Jesús en el que no se incide en el sufrimiento físico. Cristo, en estas representaciones, aparece solo, de pie, de busto o de un poco más de medio cuerpo, cargando con la cruz y con la corona de espinas en su frente, de cuyas heridas brotan gotas de sangre que caen por su rostro y por su cuello. Los fondos pueden ser bien un celaje oscurecido o, como en el caso de la pintura del Museo, una tinta neutra de gran intensidad que resalta la figura y que potencia el tema como una simple imagen para la oración. El episodio, que se inscribe dentro del recorrido que Jesús hizo hasta la cima del Gólgota, se ha identificado con un momento de descanso en el que Cristo elevó su mirada al cielo para entablar un diálogo con el Padre, que concluyó con la aceptación de su sacrificio. El Greco, de esta manera, incide más en los valores relacionados con el espíritu que con los sufrimientos del cuerpo. En esta línea, David Davies también llamó la atención sobre los versículos de san Mateo



cuando Cristo dio las condiciones a sus discípulos para seguirle.



Templo de Jerusalén (Beit Hamikdash, בית המקדש en hebreo) fue un santuario del pueblo de Israel, situado en la explanada del monte Moria, en la ciudad de Jerusalén, donde se ubican en la actualidad la Cúpula de la Roca y la mezquita de Al-Aqsa.

[15]Llegaron a Jerusalén y, entrando en el templo, se puso a echar a los que vendían y compraban en el templo; volcó las mesas de los cambistas y las sillas de los que vendían palomas,[16]y no dejaba a nadie transportar objetos por el templo.[17]Y les explicó: --- Está escrito: Mi casa será casa de oración para todas las naciones; en cambio vosotros la habéis convertido en cueva de asaltantes.[18]Lo oyeron los sumos sacerdotes y los letrados y buscaban la forma de acabar con él; pero lo temían, porque toda la gente admiraba su

NEREA y MARINA

1. Busca y bájate un mapa de Palestina en tiempos de Jesús sobre el que realizar las siguientes tareas.
2. Localiza en el mapa los siguientes accidentes geográficos: Mar Muerto, río Jordán y lago de Galilea.



3. Busca otras maneras de llamar al lago de Galilea y averigua sus características.

La parte más llana de Galilea, se situaba alrededor del lago o "[Mar de Tiberíades](#)",^[9] también llamado "Mar de Galilea",^[10] "Lago de Genesaret".^[11] Tiene 21 km de largo y 12 de ancho, está situado a 210 m bajo el nivel del mar.

Aunque sus aguas son ricas en peces, también son peligrosas por las brucas tempestades que en él se levantan.^[12] En las redes de los pescadores entraban peces buenos y otros que eran considerados malos (no comestibles), ya que los peces sin escamas o sin aletas, que se parecían a las serpientes, como las anguilas y también los mariscos les quedaban prohibidos por respeto a la Ley Mosaico0

La parte más llana de Galilea, se situaba alrededor del lago o "[Mar de Tiberíades](#)",^[9] también llamado "Mar de Galilea",^[10] "Lago de Genesaret".^[11] Tiene 21 km de largo y 12 de ancho, está situado a 210 m bajo el nivel del mar.

Aunque sus aguas son ricas en peces, también son peligrosas por las brucas tempestades que en él se levantan.^[12] En las redes de los pescadores entraban peces buenos y otros que eran considerados malos (no comestibles), ya que los peces sin escamas o sin aletas, que se parecían a las serpientes, como las anguilas y también los mariscos les quedaban prohibidos por respeto a la Ley Mosaico0

Busca otr

El día de Navidad es el 25 de diciembre, cuando se conmemora el Nacimiento de Jesucristo en Belén según los evangelios de San Mateo y San Lucas. Después de la Pascua de Resurrección es la

fiesta más importante del año eclesiástico.

<p>La parte más llana de Galilea, se situaba alrededor del lago o "Mar de Tiberíades",^[9] también llamado "Mar de Galilea",^[10] "Lago de Genesaret".^[11] Tiene 21 km de largo y 12 de ancho, está situado a 210 m bajo el nivel del mar.</p>	<p>Aunque sus aguas son ricas en peces, también son peligrosas por las brucas tempestades que en él se levantan.^[12] En las redes de los pescadores entraban peces buenos y otros que eran considerados malos (no comestibles), ya que los peces sin escamas o sin aletas, que se parecían a las serpientes, como las anguilas y también los mariscos les quedaban prohibidos por respeto a la Ley Mosaica.</p>
	<p>¿Sabes por qué celebramos la Navidad el 25 de diciembre? Investígalo. RECURSO 3</p>
	<p>Mira el siguiente vídeo de la canción Más Allá que Gloria Estefan cantó en el Vaticano ante Juan Pablo II. Escribe en el cuaderno las frases que más te gusten acerca del sentido de la Navidad. RECURSO 2</p>
	<p>Visita el enlace del Museo Thyssen y elige una pintura que te guste acerca del nacimiento de Jesús o del Niño Jesús. Pégala en tu cuaderno, copia los datos más importantes y explica por qué la has elegido. RECURSO 4</p>



La Presentación del Niño en el Templo (ala interior derecha)

Fecha:

c. 1515

Mira el siguiente vídeo de la canción Más Allá que Gloria Estefan cantó en el Vaticano ante Juan Pablo II. Escribe en el cuaderno las frases que más te gusten acerca del sentido de la Navidad.

RAÚL R. y RAÚL S.

1-Busca y bájate un mapa de Palestina en tiempos de Jesús sobre el que realizar las tareas siguientes. 2-Localiza en el mapa los siguientes accidentes geográficos: Mar Muerto, Río Jordán y Lago Galilea. 4-Situa en el mapa tres poblaciones importantes en la vida de Jesús



Busca otras maneras de llamar al lago de Galilea y averigua sus características.

Lago Tiberíades , lago Genesaret, Está situada al norte, en su parte montañosa están las ciudades de Naím,^[5] y Caná,^[6] entre ellas se encuentra Nazaret que dista de Jerusalén unos 140 km; y está al borde de un precipicio por el que trataron de arrojar a Jesús sus propios paisanos La parte más llana de Galilea, se situaba alrededor del lago o "Mar de Tiberíades",^[9] también llamado "Mar de Galilea",^[10] "Lago de Genesaret".^[11] Tiene 21 km de largo y 12 de ancho, está situado a 210 m bajo el nivel del mar.

Aunque sus aguas son ricas en peces, también son peligrosas por las bruscas tempestades que en él se levantan.^[12] En las redes de los pescadores entraban peces buenos y otros que eran considerados malos (no comestibles), ya que los peces sin escamas o sin aletas, que se parecían a las serpientes, como las anguilas y también los mariscos les quedaban prohibidos por respeto a la



2: Señala en el mapa de la fase uno la ruta que tuvieron que hacer José y María desde Nazaret a Belén



¿Sabes por qué celebramos la Navidad el 25 de diciembre? Investígalo.

El día de Navidad es el 25 de diciembre, cuando se conmemora el Nacimiento de Jesucristo en Belén según los evangelios de San Mateo y San Lucas.

Mira el siguiente vídeo de la canción Más Allá que Gloria Estefan cantó en el Vaticano ante Juan Pablo II. Escribe en el cuaderno las frases que más te gusten acerca del sentido de la Navidad.

Hay paz en tu corazón. Hay amor dentro de cada corazón.

Visita el enlace del Museo Thyssen y elige una pintura que te guste acerca del nacimiento de Jesús o del Niño Jesús. Pégala en tu cuaderno, copia los datos más importantes y explica por qué la has elegido.



Alberto Durero Título: *Jesús entre los doctores*

Fecha: 1506

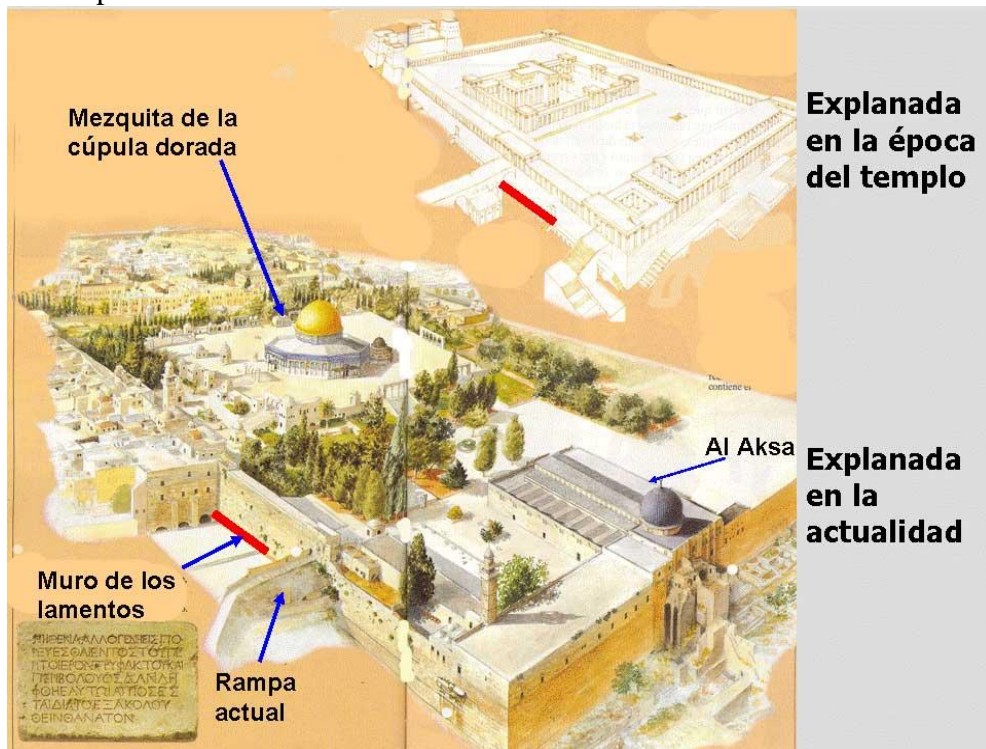
Técnica: Óleo sobre la tabla

Medidas: 64,3 x 80,3cm

Ubicación: Museo Thyssen-Bornemisza, Madrid

Numero de inventario :Nº INV. 134 (1934.38)

Busca y bájate un mapa de la ciudad de Jerusalén en tiempos de Jesús. Sitúa en el mapa el Templo de Jerusalén.



Busca también una ilustración del Templo en tiempos de Jesús. Investiga el nombre y el uso de cada una de las partes del templo

El templo tal como está actualmente con los jardines y las dos mezquitas en la parte superior y el muro de los lamentos y la rampa moderna de acceso en la parte de abajo.

El templo de Herodes al que Jesús acudió tantas veces, en el que rezó desde niño, donde enseñaba a la muchedumbre. El templo que purificó expulsando a lo

Busca una fotografía actual del lugar donde se encontraba el templo y pégala en tu cuaderno.



Señala en el mapa de Palestina de la fase 1 la ruta de vuelta de de Jerusalén a Nazaret.



Más adelante, cuando Jesús era mayor expulsó a los mercaderes del templo. Busca en el evangelio Mc 11, 15-18 léelo y descubre por qué querían matar a Jesús

Llegaron a Jerusalén y, entrando en el templo, se puso a echar a los que vendían y compraban en el templo; volcó las mesas de los cambistas y las sillas de los que vendían palomas, y no dejaba a nadie transportar objetos por el templo. Y les explicó: ---Está escrito: Mi casa será casa de oración para todas las naciones; en cambio vosotros la habéis convertido en cueva de asaltantes. Lo oyeron los sumos sacerdotes y los letrados y buscaban la forma de acabar con él; pero lo temían, porque toda la gente admiraba su enseñanza.

Asma y Aurora

1. Busca y bájate un mapa de Palestina en tiempos de Jesús sobre el que realizar las tareas siguientes.
2. Localiza en el mapa los siguientes accidentes geográficos: Mar Muerto, río Jordán y lago de Galilea.
3. Sitúa en el mapa tres poblaciones importantes en la vida de Jesús.
4. Señala en el mapa de la fase 1 la ruta que tuvieron que hacer José y María desde Nazaret a Belén.



3. Busca otras maneras de llamar al lago de Galilea y averigua sus características.

La parte más llana de Galilea, se situaba alrededor del lago o "Mar de Tiberíades" también llamado "Mar de Galilea". "Lago de Genesaret". Tiene 21 km de largo y 12 de ancho, está situado a 210 m bajo el nivel del mar.

Aunque sus aguas son ricas en peces, también son peligrosas por las bruscas tempestades que en él se levantan. En las redes de los pescadores entraban peces buenos y otros que eran considerados malos (no comestibles), ya que los peces sin escamas o sin aletas, que se parecían a las serpientes, como las anguilas y también los mariscos les quedaban prohibidos por respeto a la Ley Mosaica.

4. ¿Sabes por qué celebramos la Navidad el 25 de diciembre?

. Escribe en el cuaderno las frases que más te gusten acerca del sentido de la Navidad.

Me gusta la Navidad porque cantamos villancicos.

Y también porque decoramos el Belén.

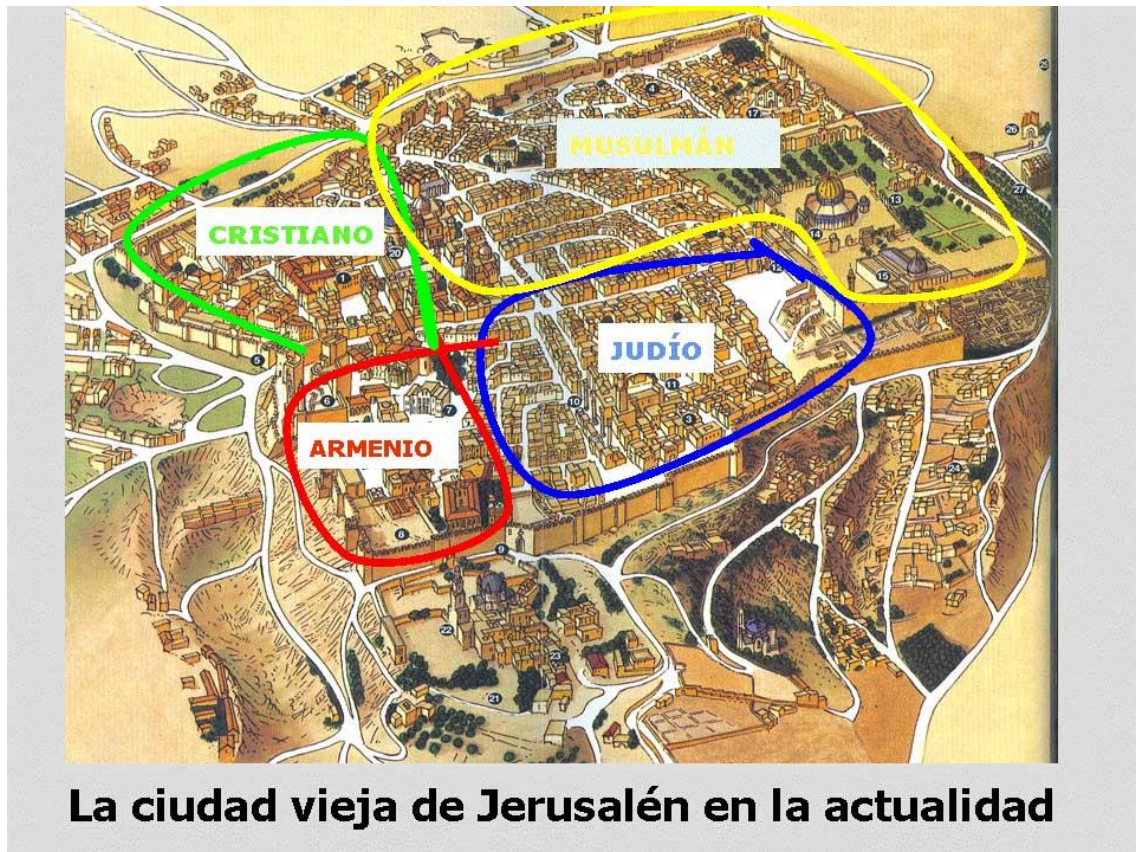
Visita el enlace del Museo Thyssen y elige una pintura que te guste acerca del nacimiento de Jesús o del Niño Jesús. Pégala en tu cuaderno, copia los datos más importantes y explica por qué la has elegido.



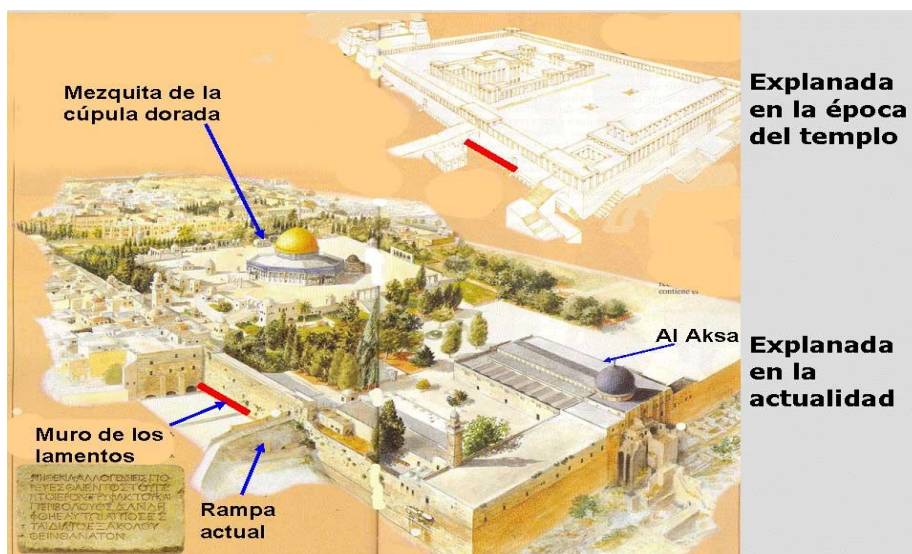
El tema de Cristo caminando con la cruz a cuestas por la calle de la Amargura hacia el Gólgota es el más frecuente en la producción conocida de Frangipane. Se conservan nueve versiones de este asunto, con algunas variantes compositivas, ya que existen dos ejemplos en los que la escena se representa con figuras de cuerpo entero -uno en la Capelletta di Santo Gesù¹ de Gandino .

Fase 3

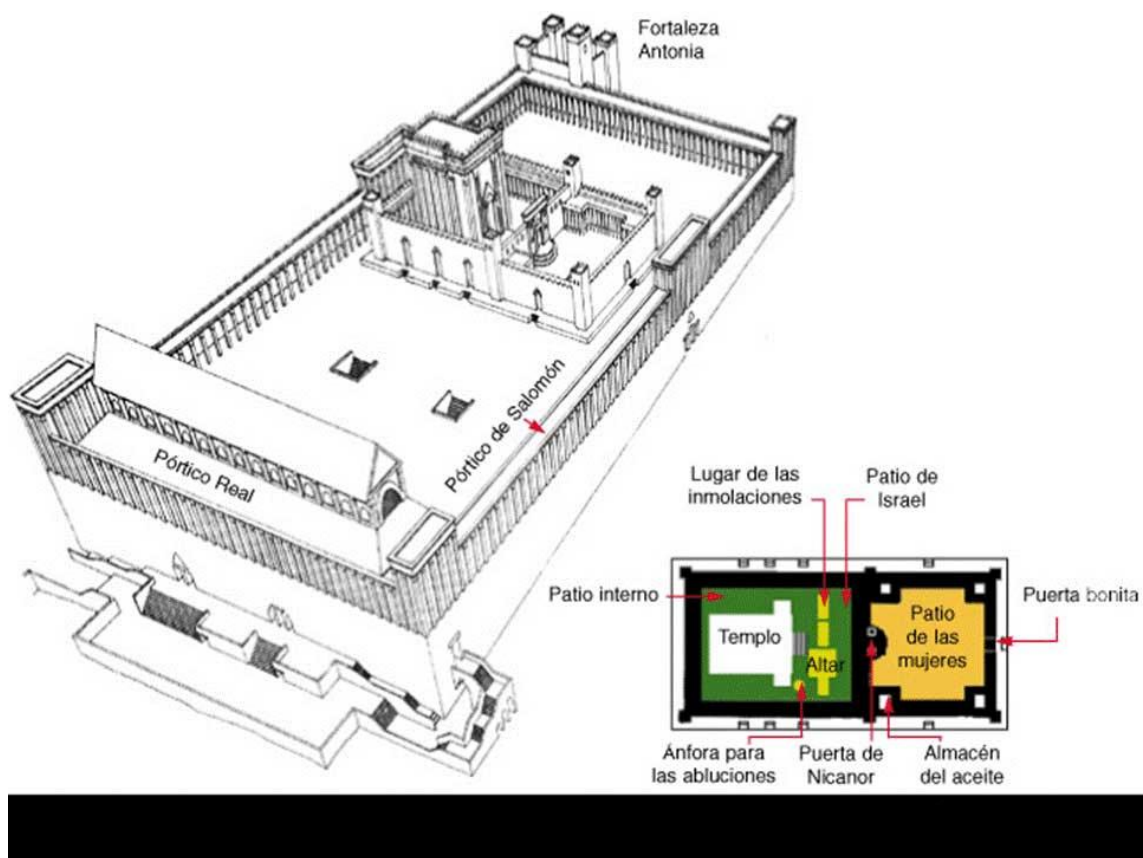
1. Busca y bájtate un mapa de la ciudad de Jerusalén en tiempos de Jesús. Sitúa en el mapa el Templo de Jerusalén.



2. Busca también una ilustración del Templo en tiempos de Jesús. Investiga el nombre y el uso de cada una de las partes del templo.



3. Busca una fotografía actual del lugar donde se encontraba el templo y pégala en tu cuaderno.

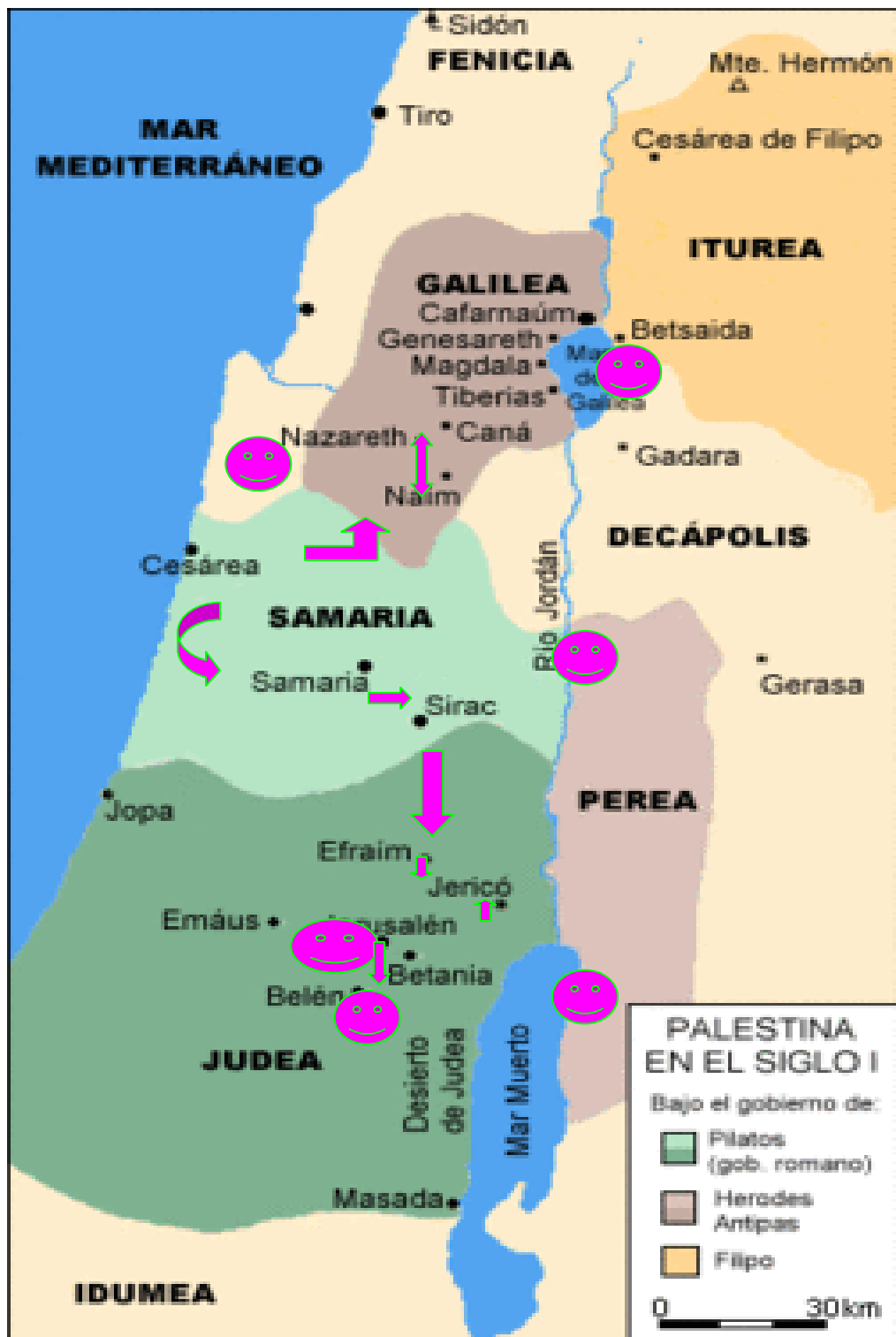


EDURNE y PAULA

1-Busca y bájate un mapa de Palestina en tiempos de Jesús sobre el que realizar las tareas siguientes.

2-Localiza en el mapa los siguientes accidentes geográficos: Mar Muerto, río Jordán y lago de Galilea.

4-Sitúa en el mapa tres poblaciones importantes en la vida de Jesús.



5-Busca otras maneras de llamar al lago de Galilea y averigua sus características.

El **Mar de Galilea**, también llamado **Mar** o **Lago de Tiberíades** y **Lago de Genesaret** (en [hebreo](#) כִּנְרֵת, «*Ki* Busca otras maneras de llamar al lago de Galilea y averigua sus características. *néret*», del hebreo «*kinor*» ([kinnor](#)) debido a su forma de arpa primitiva o lira; [Números 34:11](#), [Josué 13:27](#); en [árabe](#), بحيرة طبريا, *Buhayrat Tiberiyā*) es un lago de agua dulce de [Asia](#) occidental, situado en la región del [Próximo Oriente](#), y perteneciente a [Israel](#), incluida una estrecha franja costera de 10 metros de anchura en su csta nororiental.¹



Lago Galilea

¿Sabes por qué celebramos la Navidad el 25 de diciembre?

En el [Imperio romano](#), las celebraciones de [Saturno](#) durante la semana del solsticio, que eran el acontecimiento social principal, llegaban a su apogeo el 25 de diciembre.

. Escribe en el cuaderno las frases que más te gusten acerca del sentido de la Navidad

hay paz en tu corazón.

Brilla la luz del amor dentro de cada corazón.

Hay un rayo de sol a través del cristal.

Una obra de arte del museo Thyssen: Nacimiento o Niño Jesús



Ficha de la obra de arte

Autor: Barthel Bruyn Técnica: Óleo Fecha: 1520 Estilo: Flamenco alemán.

¿Por qué he elegido este cuadro?

Lo hemos elegido porque es un cuadro donde todos sus personajes están muy alegres.

Fase 3: Jesús y el templo

Mapa de Jerusalén en tiempos de Jesús. Situación del Templo



Ilustración y partes del Templo

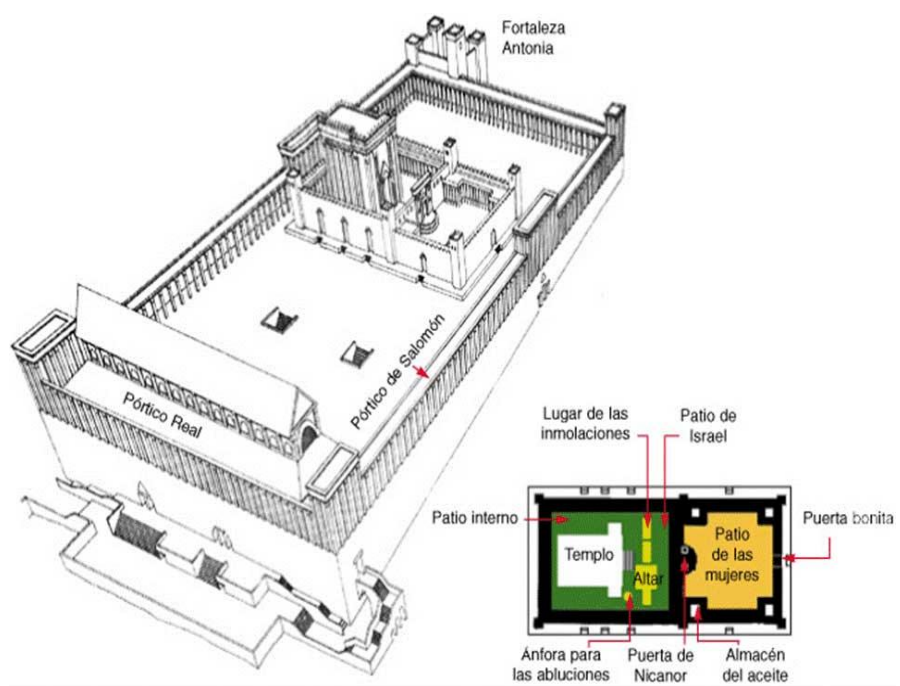


Imagen actual de Jerusalén. Lugar donde se encontraba el Templo



EXPLANADA DEL TEMPLO DESDE EL MONTE DE LOS OLIVO

Expulsión de los mercaderes del Templo. ¿Por qué querían matar a Jesús?

Porque le tenían miedo, pues toda la gente estaba admirada de su enseñanza.

ADRIÁN y JORGE

1. Busca y bájate un mapa de Palestina en tiempos de Jesús sobre el que realizar las tareas siguientes.

2. Localiza en el mapa los siguientes accidentes geográficos: Mar Muerto, río Jordán y lago de Galilea.

Sitúa en el mapa tres poblaciones importantes en la vida de Jesús

Busca otras maneras de llamar al lago de Galilea y averigua sus características

El **Mar de Galilea**, también llamado **Mar** o **Lago de Tiberíades** y **Lago de Genesaret** (en [hebreo](#) כִּנֶּרֶת, «*Kinéret*», del hebreo «*kinor*» ([kinnor](#)) debido a su forma de arpa primitiva o lira; [Números 34:11](#), [Josué 13:27](#); en [árabe](#), بحيرة طبريا, *Buhayrat Tibiriyā*) es un lago de agua dulce de [Asia](#) occidental, situado en la región del [Próximo Oriente](#), y perteneciente a [Israel](#), incluida una estrecha franja costera de 10 metros de anchura en su costa nororiental.¹



Señala en el mapa de la fase 1 la ruta que tuvieron que hacer José y María desde Nazaret a Belén.

¿Sabes por qué celebramos la Navidad el 25 de diciembre? Investígalo. Mira el siguiente video de la canción Más Allá que Gloria Estefan cantó en el Vaticano ante Juan Pablo II. Escribe en el cuaderno las frases que más te gusten acerca del sentido de la Navidad. **RECURSO 2** Visita el enlace del Museo Thyssen y elige una pintura que te guste acerca del nacimiento de Jesús o del Niño Jesús. Pégala en tu cuaderno, copia los datos más importantes y explica por qué la has



elegido.

Más adelante, cua

ndo Jesús era mayor
expulsó a los mercaderes del templo. Busca en el evangelio Mc 11, 15-
18 léelo y descubre por qué querían matar a Jesús porque era el mesías

.



Q

Busca también una ilustración del Templo en tiempos de Jesús. Investiga el nombre y



El monte del templo desde el oeste

el Señala en el mapa de Palestina de la fase 1 la ruta de vuelta de de Jerusalén a Nazaret
uso de cada una de las partes del templo

ALBERTO y ALEJANDRO

1. Busca y bájate un mapa de Palestina en tiempos de Jesús sobre el que realizar las tareas siguientes
2. Localiza en el mapa los siguientes accidentes geográficos: Mar Muerto, río Jordán y lago de Galilea
4. Sitúa en el mapa tres poblaciones importantes en la vida de Jesús



3. Busca otras maneras de llamar al lago de Galilea y averigua sus características.



1 **Mar de Galilea**, también llamado **Mar** o **Lago de Tiberíades** y **Lago de Genesaret** (en [hebreo](#) כִּנֶּרֶת, «*Kinéret*», del hebreo «*kinor*» ([kinnor](#)) debido a su forma de arpa primitiva o lira;; en [árabe](#), بحيرة طبريا, *Buhayrat Tibiriyā*) es un lago de agua dulce de [Asia](#) occidental, situado en la región del [Próximo Oriente](#), y perteneciente a [Israel](#), incluida una estrecha franja costera de 10 metros de anchura en su costa nororiental.

¿Sabes por qué celebramos la Navidad el 25 de diciembre?

El día de Navidad es el 25 de diciembre, cuando se conmemora el Nacimiento de Jesucristo en Belén según los evangelios de San Mateo y San Lucas. Después de la Pascua de Resurrección es la fiesta más importante del año eclesiástico.

7. Mira el siguiente vídeo de la canción Más Allá que Gloria Estefan cantó en el Vaticano ante Juan Pablo II. Escribe en el cuaderno las frases que más te gusten acerca del sentido de la Navidad

GLORIA ESTEFAN

Más allá del rencor
de las lágrimas y el dolor
brilla la luz del amor
dentro de cada corazón.
Ilusión, Navidad
pon tus sueños a volar
siembra paz
brinda amor
que el mundo entero pide más.

8. Visita el enlace del Museo Thyssen y elige una pintura que te guste acerca del nacimiento de Jesús o del Niño Jesús. Pégala en tu cuaderno, copia los datos más importantes y explica por qué la has elegido

NIÑO JESUS



Este tríptico perteneció a la colección de Langton Douglas, donde estuvo registrado a principios de la década de 1930 y donde figuró como obra del pintor toscano Vigoroso de Siena. Adquirido en 1934 para la colección Thyssen-Bornemisza, la pintura, sin embargo, fue ofertada por su propietario primero a la National Gallery de Irlanda. El altar figuró en los catálogos de Villa Favorita hasta 1969 como un trabajo autógrafo de Vigoroso de Siena, aunque Rudolph Heinemann en sus comentarios cuestionó la autoría. La atribución actual se debe a un estudio de Miklós Boskovits, quien en cartas fechadas en 1982 y 1987 había manifestado ya sus discrepancias y sus dudas sobre su autor

9. Busca y bájtate un mapa de la ciudad de Jerusalén en tiempos de Jesús. Sitúa en el mapa el Templo de Jerusalén

TEMPLO DE JERUSALEN

El **Templo de Jerusalén** (*Beit Hamikdash*, [שְׁדֵקְמָה תֵּיב](#) en [hebreo](#)) fue un santuario del pueblo de [Israel](#), situado en la explanada del [monte Moria](#), en la ciudad de [Jerusalén](#), donde se ubican en la actualidad la [Cúpula de la Roca](#) y la mezquita de [Al-Aqsa](#).



BLANCA y ÁNGEL

El **Mar de Galilea**, también llamado **Mar o Lago de Tiberíades** y **Lago de Genesaret** (en hebreo כִּנֶּרֶת , «*Kinéret*», del hebreo «*kinor*» (*kinnor*) debido a su forma de arpa primitiva o lira; Números 34:11, Josué 13:27; en árabe, اي ربت قري حب, *Buhayrat Tibiriya*) es un lago de agua dulce de Asia occidental, situado en la región del Próximo Oriente, y perteneciente a Israel, incluida una estrecha franja costera de 10 metros de anchura en su costa nororiental.



De Gloria Estefan

De Gloria Estefan



Más allá del rencor
De las lágrimas y el dolor
brilla la luz del amor
dentro de cada corazón.
Ilusión, Navidad
pon tus sueños a volar
siembra paz
brinda amor
que el mundo entero pide más.

Cuando brota una oración
aceptas el error.
cuando encuentras lugar
para la libertad
hay una sonrisa más.







IFI y SUSANA

Busca otras maneras de llamar al lago de Galilea y averigua sus características.

- ⇒ 1-Busca y bájate un mapa de Palestina en tiempos de Jesús sobre el que realizar
- ⇒ las tareas siguiente
- ⇒ El Mar de Galilea, también llamado Mar o Lago de Tiberíades y Lago de Genesaret (en hebreo , «Kinéret», del hebreo «kinor» (kinnor) debido a su forma de arpa primitiva o lira; Números 34:11, Josué 13:27; en árabe, Buhayrat Tibiriyā) es un lago de agua dulce de Asia occidental, situado en la región del Próximo Oriente, y perteneciente a Israel, incluida una estrecha franja costera de 10 metros de anchura en su costa nororiental





¿Sabes por qué celebramos la Navidad el 25 de diciembre? Investígalo

nosotros lo celebramos porque Jesús nació ese día

Mira el siguiente vídeo de la canción Más Allá que Gloria Estefan cantó en el Vaticano ante Juan Pablo II. Escribe en el cuaderno las frases que más te gusten acerca del sentido de la Navidad

¡Feliz navidad!, y prospero año

Visita el enlace del Museo Thyssen y elige una pintura que te guste acerca del nacimiento de Jesús o del Niño Jesús. Pégala en tu cuaderno, copia los datos más importantes y explica por qué la has elegido.



Porque era la más bonita y nos a gustado mucho

Busca también una ilustración del Templo en tiempos de Jesús. Investiga el nombre y el uso de cada una de



Ruinas del muro de contención meridional
La escalinata daba lugar a las puertas de Hulda y a los túneles que desembocaban en la explanada del templo

GONZALO Y CARLOS

Mar de Galilea

El **Mar de Galilea**, también llamado **Mar** o **Lago de Tiberíades** y **Lago de Genesaret** (en [hebreo](#) כִּנֶּרֶת, «*Kinéret*», del hebreo «*kinor*» ([kinnor](#)) debido a su forma de arpa primitiva o lira; [Números 34:11](#), [Josué 13:27](#); en [árabe](#), بحيرة طبريا, *Buhayrat Tiberiyā*) es un lago de agua dulce de [Asia](#) occidental, situado en la región del [Próximo Oriente](#), y perteneciente a [Israel](#), incluida una estrecha franja costera de 10 metros de anchura en su costa
nororiental^[1]



Las tres ciudades mas importantes de galilea son



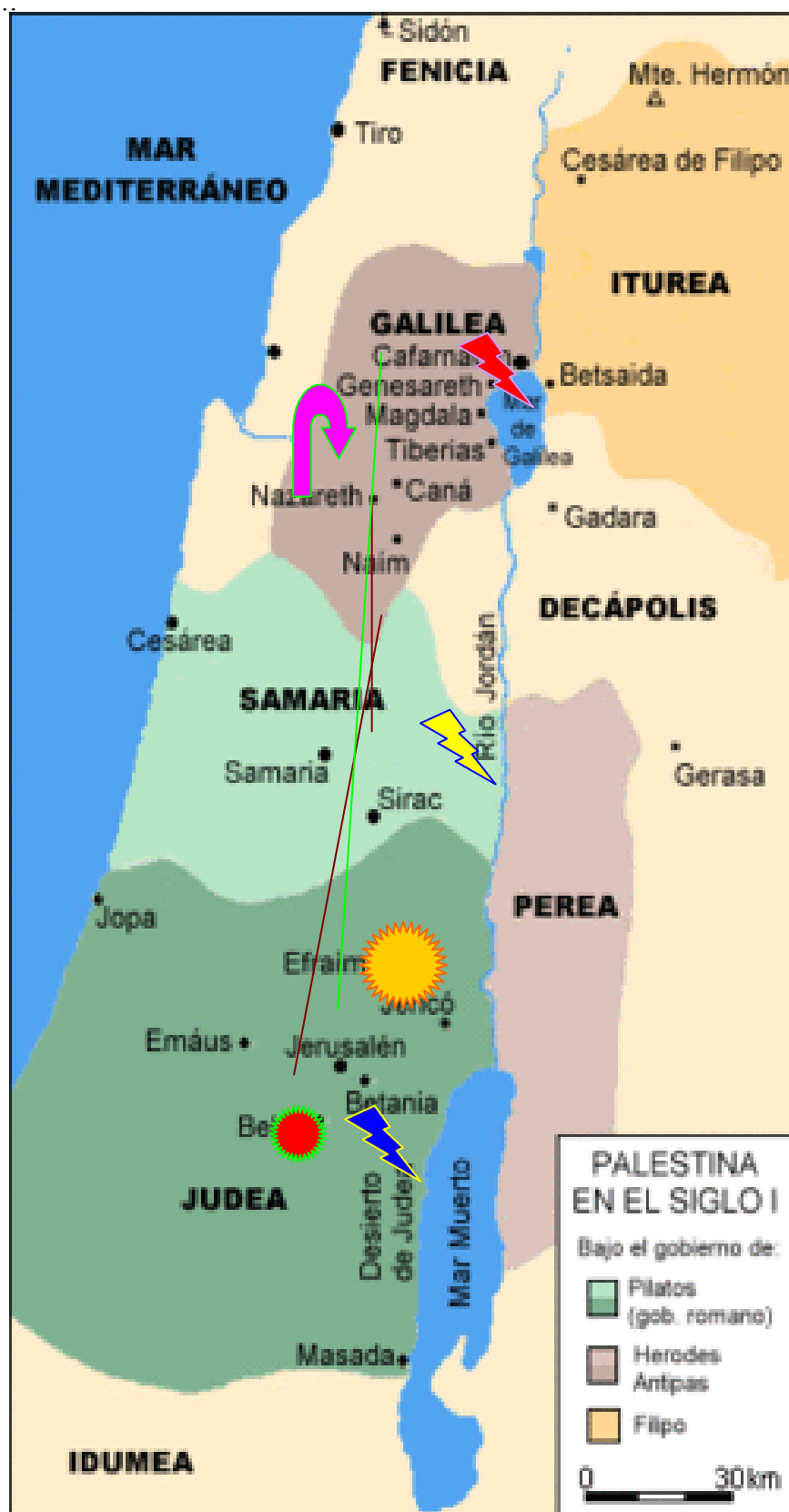


ALEJANDRO VALVERDE y GABRIEL

FASE 1



Busca y bájate un mapa de Palestina en tiempos de Jesús sobre el que realizar las tareas siguientes..



El **Mar de Galilea**, también llamado **Mar** o **Lago de Tiberíades** y **Lago de Genesaret** (en [hebreo](#) כִּנֶּרֶת, «*Kinéret*», del hebreo «*kinor*» ([kinnor](#)) debido a su forma de arpa primitiva o lira; [Números 34:11](#), [Josué 13:27](#); en [árabe](#), بحيرة طبريا, *Buhayrat Tibiriyā*) es un lago de agua dulce de [Asia](#) occidental, situado en la región del [Próximo Oriente](#), y perteneciente a [Israel](#), incluida una estrecha franja costera de 10 metros de anchura en su costa nororiental.^[1]

Mar de Galilea



FASE 2



¿Sabes por qué celebramos la Navidad el 25 de diciembre?

Porque **nace el niño Jesús**

Mira el siguiente vídeo de la canción Más Allá que Gloria Estefan cantó en el Vaticano ante Juan Pablo II. Escribe en el cuaderno las frases que más te gusten acerca del sentido de la Navidad.

Se olvida el rencor, navidad es ilusión, hay paz en tu corazón y a la luz de el amor en tu corazon.

Visita el enlace del Museo Thyssen y elige una pintura que te guste acerca del nacimiento de Jesús o del Niño Jesús. Pégala en tu cuaderno, copia los datos más importantes y explica por qué la has elegido.




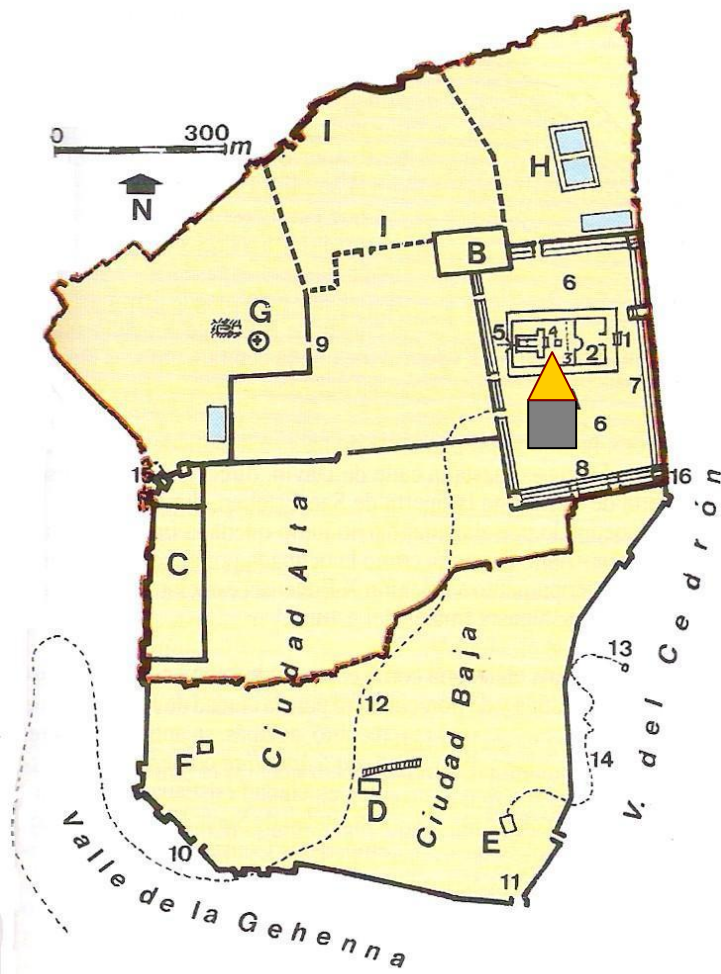
Cristo y la samaritana



Cristo entre los doctores

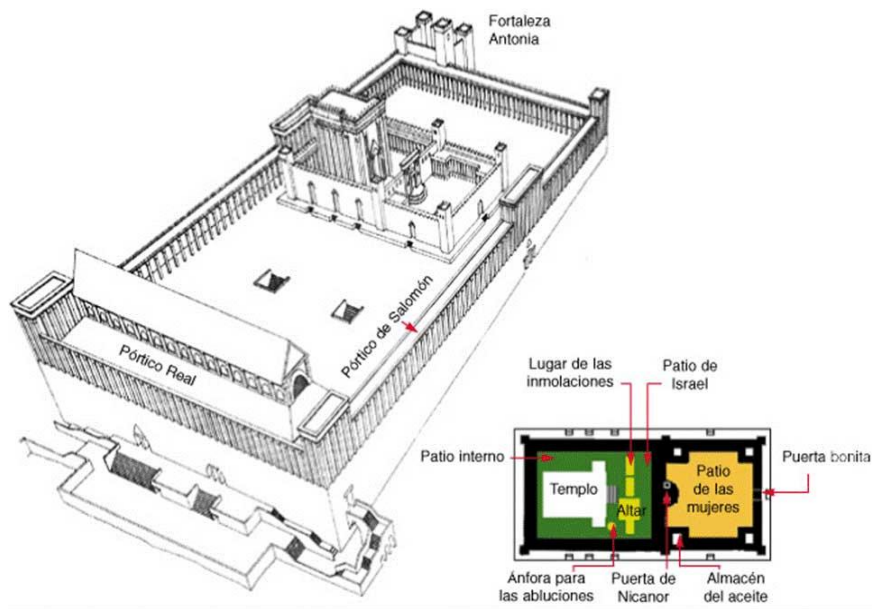
FASE 3







FOTOGRAFÍA ACTUAL



FOTOGRAFÍA EN TIEMPOS DE JESÚS

Más adelante, cuando Jesús era mayor expulsó a los mercaderes del templo. Busca en el evangelio Mc 11, 15-18 léelo y descubre por qué querían matar a Jesús.

Porque le temían y todo el mundo admiraba su enseñanza.

EVA y ANDREA

BUSCA Y BAJATE UN MAPA DE PALESTINA EN TIEMPOS DE JESUS SOBRE EL QUE REALIZAR LAS TAREAS SIGUIENTES.



2 El Mar de Galilea, también llamado **Mar o Lago de Tiberíades** y **Lago de Genesaret** lo que convierte al Mar de Galilea en el lago de agua dulce más bajo del mundo. Su punto de mayor es un lago de agua dulce perteneciente a [Israel](#), incluida una estrecha franja costera de 10 metros de anchura en su costa nororiental.^[1] de [Asia](#) occidental, situado en la región del [Próximo Oriente](#), y, perteneciente a [Israel](#), incluida una estrecha franja costera de 10 metros de anchura en su costa nororiental. Su origen es tectónico, asociado al complejo del [Valle del Gran Rift africano](#), de 21 km de longitud norte-sur y 13 km de longitud este-oeste, con una profundidad máxima de 48 m y una altura de 212 m bajo el nivel del mar .

Aparte de muchos otros manantiales, su mayor aporte hídrico procede de las aguas del [río Jordán](#), que desemboca por su lado norte, y el cual desagua del lago por su lado sur. Este lago es importante para los [cristianos](#), ya que creen que sobre estas aguas [Jesús](#) caminó en sus orillas.



1 En este mapa podemos ver la localización de Jerusalén dentro del mapa de Israel. Podemos observar que se encuentra en la montaña central, que constituye la espina dorsal del país.

Esa montaña central se divide en dos partes pero sin una transición demasiado aparente. Al norte queda la montaña de Samaría que corresponde a las tribus de Benjamín, Efraím y Manasés. Al sur queda la montaña de Judá que pertenece a la tribu del mismo nombre.

Jerusalén se encuentra propiamente en la misma línea divisoria entre Benjamín y Judá. Fue esta posición geográfica una de las razones que motivaron a David en el siglo X a.C. a elegirla como capital del conjunto de tribus del Reino recién fundado.

Otras ciudades importantes que se localizan en Judá, en la parte sur de la montaña central son Belén y Hebrón.



RUBÉN y DANI

¿Sabes por qué celebramos la Navidad el 25 de diciembre?

Porque ha nacido el niño Jesús en esa misma fecha, por eso hacemos la cena y los regalos

Mira el siguiente vídeo de la canción Más Allá que Gloria Estefan cantó en el Vaticano ante Juan Pablo II. Escribe en el cuaderno las frases que más te gusten acerca del sentido de la Navidad

Que haya paz en el mundo



Busca y bájate un mapa de Palestina en tiempos de Jesús sobre el que realizar las tareas siguientes. Señala en el mapa de la fase 1 la ruta que tuvieron que hacer José y María desde Nazaret a Belén. Señala en el mapa de la fase 1 la ruta que tuvieron que hacer José y María desde Nazaret a Belén. Sitúa en el mapa tres poblaciones importantes en la vida de Jesús . Señala en el mapa de la fase 1 la ruta que tuvieron que hacer José y María desde Nazaret a Belén. Señala en el mapa de la fase 1 la ruta que tuvieron que hacer José y María desde Nazaret a Belén.



pertenece al pueblo de Busca otras maneras de llamar al lago de Galilea y averigua sus características.

Es un lago de agua dulce de Asia occidental situado en la región del próximo oriente y Israel
Lo llamaríamos Lago de Israel



Visita el enlace del Museo Thyssen y elige una pintura que te guste acerca del nacimiento de Jesús o del Niño Jesús. Pégala en tu cuaderno, copia los datos má

El personaje se encargo de hacer un bello conjunto

Visita el enlace del Museo Thyssen y elige una pintura que te guste acerca del nacimiento de Jesús o del Niño Jesús. Pégala en tu cuaderno, copia los datos má

El personaje se encargo de hacer un bello conjunto



Más adelante, cuando Jesús era mayor expulsó a los mercaderes del templo. Busca en el evangelio Mc 11, 15-18 léelo y descubre por qué querían matar a Jesús

